



**Základní škola a Mateřská škola Dobrá Voda u Českých Budějovic,  
Na Vyhlídce 6, 373 16 Dobrá Voda u Českých Budějovic**



evropský  
sociální  
fond v ČR



MINISTERSTVO ŠKOLSTVÍ,  
MLÁDEŽE A TĚLOVÝCHOVY



OP Vzdělávání  
pro konkurenceschopnost

INVESTICE DO ROZVOJE VZDĚLÁVÁNÍ

## **EU PENÍZE ŠKOLÁM**

**Zlepšení podmínek pro vzdělávání na základních školách Operačního programu  
Vzdělávání pro konkurenceschopnost**

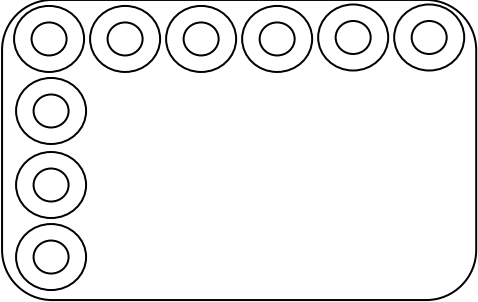
Číslo a název klíčové aktivity:	IV/2 Inovace a zkvalitnění výuky směřující k rozvoji matematické gramotnosti žáků základních škol
Číslo DUM:	VY_42_INOVACE_M.3.023
Jméno autora:	Vendula Sýkorová
Datum (období) vytvoření DUM:	13.12. – 14.12. 2012
Ročník:	3.
Vzdělávací oblast:	Matematika a její aplikace
Vzdělávací obor:	Matematika
Klíčová slova:	Slovní úlohy v oboru do 100.
Anotace:	Žák procvičuje řešení slovních úloh, doplňuje tabulky, samostatně zpracovává pracovní list.
Druh učebního materiálu:	Pracovní list
Očekávaný výstup:	Žák řeší slovní úlohy se dvěma různými početními výkony, doplňuje tabulky.

# Vánoční pečení – slovní úlohy do 100

Jméno: \_\_\_\_\_


- Adam pomáhal babičce Růžence s lineckým cukrovím. Babička při pečení zjistila, že plechy do její úplně nové pečicí trouby mají jiný tvar, než ty, které používala dříve. Odhadni, kolik řad cukroví se vejde na nový plech. Ověř přiložením pravítka. Vypočítej, na který plech se vejde více lineckých koleček a o kolik.

PŮVODNÍ PLECH




Výpočet: \_\_\_\_\_

NOVÝ PLECH




\_\_\_\_\_



\_\_\_\_\_ < \_\_\_\_\_

Odpověď: \_\_\_\_\_

- Doplň čísla do tabulky tak, aby výsledek sčítání byl sto.




31	56	17	44	8	63	22	85

Obr.1

- Adam pomáhal zdobit čokoládová srdíčka oříšky. Narovnal si je na vál do 8 řad po 9 srdíčkách. Tři srdíčka však během zdobení snědl. Kolik srdíček zbylo?

Výpočet: \_\_\_\_\_

Odpověď: \_\_\_\_\_



- Babička naplnila krémem 62 karamelových rohlíčků a uložila do chladničky. Po pěti rohlíčcích pak odebrala do třech dárkových krabiček. Kolik rohlíčků je nyní v chladničce?

Výpočet: \_\_\_\_\_

Odpověď: \_\_\_\_\_

**Citace a zdroje:**

Pokud není uvedeno jinak obrázky vlastní tvorba autora DUM.

Obr.1:

OAL. *Clker.com* [online]. [cit. 15.12.2012]. Dostupný na WWW: <http://www.clker.com/clipart-4166.html>

Hypertextový odkaz:

Popelka - pohádka o Popelce. Zdarma pro děti. <http://zdarmaprodeti.topstranky.cz/clanek-popelka-pohadka-o-popelce-2-29> .

Datum: 15. 12. 2012

Autor: Mgr. Vendula Sýkorová