



**Základní škola a Mateřská škola Dobrá Voda u Českých Budějovic,
Na Vyhlídce 6, 373 16 Dobrá Voda u Českých Budějovic**



evropský
sociální
fond v ČR



EVROPSKÁ UNIE



MINISTERSTVO ŠKOLSTVÍ,
MLÁDEŽE A TĚLOVÝCHOVY



OP Vzdělávání
pro konkurenceschopnost

INVESTICE DO ROZVOJE VZDĚLÁVÁNÍ

EU PENÍZE ŠKOLÁM


**Zlepšení podmínek pro vzdělávání na základních školách Operačního programu
Vzdělávání pro konkurenceschopnost**

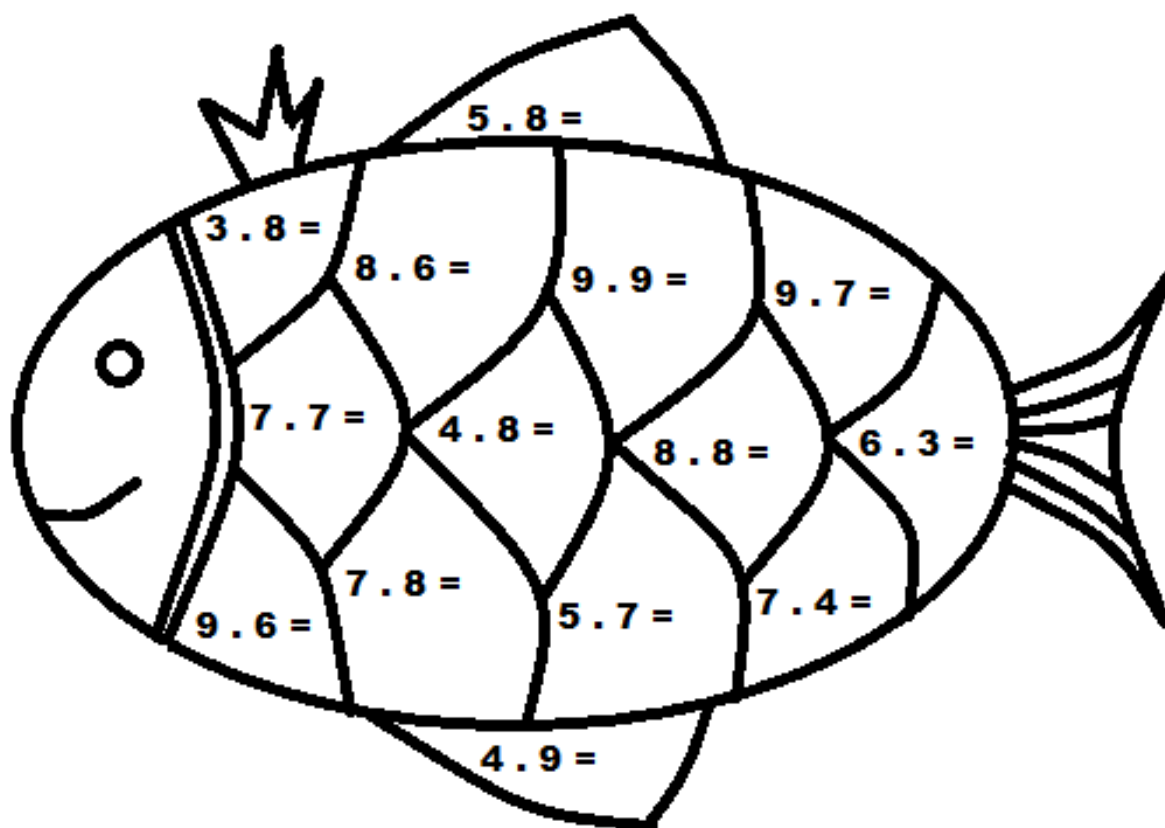
Číslo a název klíčové aktivity:	IV/2 Inovace a zkvalitnění výuky směřující k rozvoji matematické gramotnosti žáků základních škol
Číslo DUM:	VY_42_INOVACE_M.3.024
Jméno autora:	Vendula Sýkorová
Datum (období) vytvoření DUM:	27.12. – 30.12. 2012
Ročník:	3.
Vzdělávací oblast:	Matematika a její aplikace
Vzdělávací obor:	Matematika
Klíčová slova:	Slovní úlohy v oboru do 100, násobilka, zaokrouhlování na desítky.
Anotace:	Žák procvičuje řešení slovních úloh, doplňuje tabulky, schémata, zaokrouhluje na desítky, samostatně zpracovává pracovní list.
Druh učebního materiálu:	Pracovní list
Očekávaný výstup:	Žák řeší slovní úlohy se dvěma různými početními výkony, doplňuje tabulky, zaokrouhluje čísla na desítky, doplňuje schémata.


Autorem materiálu a všech jeho částí, není-li uvedeno jinak, je Mgr. Vendula Sýkorová. Materiál vznikl v OP Vzdělávání pro konkurenceschopnost – projekt EU peníze školám.

Počítání se zlatou rybičkou


Jméno: _____

1.  Vypočítej příklady ve všech šupinách.



2.  Dopln tabulku na písemné sčítání a odčítání.

42	76	86	53	85	100	50	71
51	- 23	- 19	47	13	- 37	36	- 49

3.  Dvě zlaté rybičky stojí 16 Kč. Kolik stojí sedm takových rybiček?

2 rybičky.....

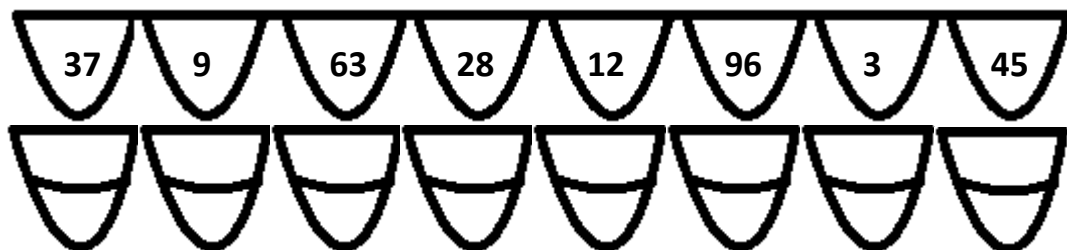
1 rybička.....

7 rybiček.....



Odpověď: _____

4. Zaokrouhli čísla vepsaná do šupin na desítky, výsledek zaokrouhlování zapiš do druhé řady šupin, doplň písmena podle nápovědy a přečti si tajenku.

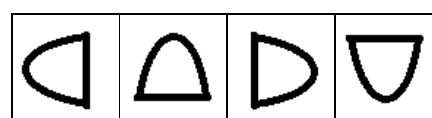
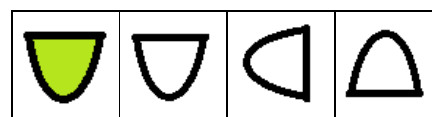
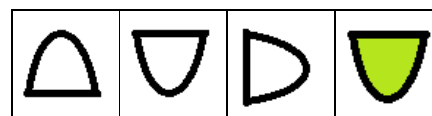


Nápověda:

0	10	20	30	40	50	60	70	80	90	100
N	Ř	S	P	T	Í	I	O	A	Š	Á

5. Velká rybka má 56 šupin, malá rybička má 38 šupin. Kolik šupin může mít středně velká rybka, když víme, že má méně šupin než velká a více šupin než malá ryba? Zapiš tři řešení.

6. Vyznač šupinu, která je logickým pokračováním řady.



Citace a zdroje:

Autorem materiálu a všech jeho částí, není-li uvedeno jinak, je Mgr. Vendula Sýkorová. Materiál vznikl v OP Vzdělávání pro konkurenceschopnost – projekt EU peníze školám.

Citace a zdroje:

Obrázky vlastní tvorba autora DUM s využitím Microsoft Office.

Hypertextový odkaz:

Zlatá rybka, 2011. Wikipedie. http://cs.wikipedia.org/wiki/Zlat%C3%A1_rybka (accessed Dec 29, 2012).

Datum: 30. 12. 2012

Autor: Mgr. Vendula Sýkorová