



**Základní škola a Mateřská škola Dobrá Voda u Českých Budějovic,
Na Vyhliídce 6, 373 16 Dobrá Voda u Českých Budějovic**



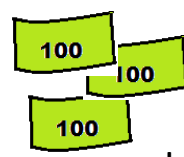
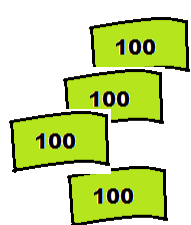
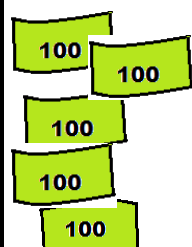

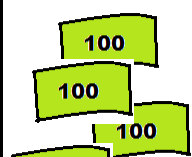
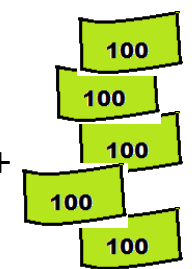
INVESTICE DO ROZVOJE VZDĚLÁVÁNÍ

EU PENÍZE ŠKOLÁM


**Zlepšení podmínek pro vzdělávání na základních školách Operačního programu
Vzdělávání pro konkurenceschopnost**

Číslo a název klíčové aktivity:	IV/2 Inovace a zkvalitnění výuky směřující k rozvoji matematické gramotnosti žáků základních škol
Číslo DUM:	VY_42_INOVACE_M.3.030
Jméno autora:	Vendula Sýkorová
Datum (období) vytvoření DUM:	10.1. – 11.1. 2013
Ročník:	3.
Vzdělávací oblast:	Matematika a její aplikace
Vzdělávací obor:	Matematika
Klíčová slova:	Sčítání, odčítání přirozených čísel v oboru do 1 000.
Anotace:	Žák procvičuje sčítání a odčítání násobků sta v oboru do 1 000., samostatně zpracovává pracovní list.
Druh učebního materiálu:	Pracovní list
Očekávaný výstup:	Žák umí sčítat a odčítat z paměti přirozená čísla v oboru do tisíce.

1. Spočítej stokoruny a zapiš početní příklad.

 + 	 + 	 + 
300 + 400 = Kč	___ + ___ = ___ Kč	___ + ___ = ___ Kč


2. Vypočítej příklady. Pokud potřebuješ, pomoz si znázorněnými penězi.




1 000 Kč

200 + 100	100 + 600	500 + 500	700 + 200
500 + 300	300 + 500	300 + 700	100 + 800
600 + 200	200 + 700	200 + 800	600 + 100
300 + 400	500 + 400	600 + 400	500 + 200
100 + 500	200 + 400	100 + 900	300 + 200


3. Dopočítej příklady na sčítání v raketách a v tabulce pod raketami.



100		400
600		1000
	300	700
	200	500



400		800
700		1 000
200		700
	300	900

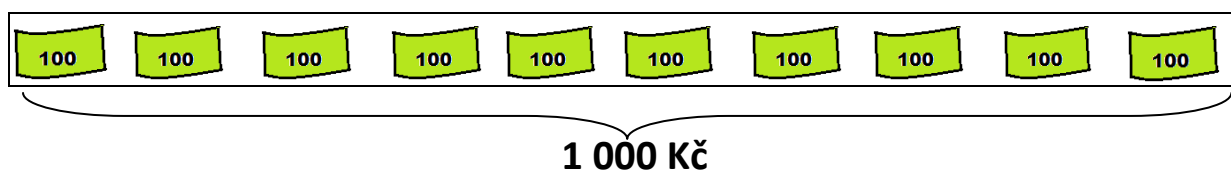


	200	1 000
500		900
	100	1 000
	300	800

100		200	1 000
	200	500	700

400	300		900
300		500	1 000

4. Vypočítej příklady. Pokud potřebuješ, pomoz si znázorněnými penězi.



200 - 100	1 000 - 600	500 - 500	900 - 200
500 - 300	900 - 500	1 000 - 700	1 000 - 800
600 - 200	1 000 - 700	1 000 - 800	600 - 600
900 - 400	800 - 400	600 - 400	1 000 - 300
700 - 500	1 000 - 400	1 000 - 900	900 - 700

5. Renata čte ráda knihy o koních. Během ledna přečetla tři. První kniha měla 300 stran, druhá 100 a třetí kniha 200 stran. Kolik stran přečetla v těchto třech knihách v lednu?

Výpočet: _____

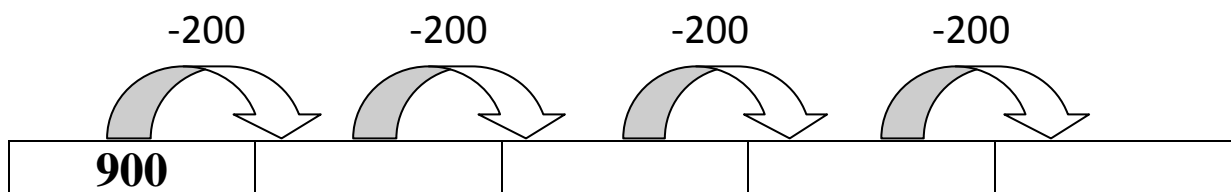


Odpověď: _____

6. Spoj příklady se správným počtem stran v knize.

1 000 - 600		900 - 200
400 + 300		500 + 300
200 + 500		100 + 600
900 - 100		400 + 500
1 000 - 300		800 - 100
200 + 600		1 000 - 400

7. Dopln čísla podle schématu.



Citace a zdroje:

Neoznačené obrázky vlastní tvorba autora DUM s využitím Microsoft Office.

Obr.1: OCAL. *Clker.com* [online]. [cit. 11.1.2013]. Dostupný na WWW:
<http://www.clker.com/clipart-7002.html>

Obr.2: OCAL. *Clker.com* [online]. [cit. 11.1.2013]. Dostupný na WWW:
<http://www.clker.com/clipart-6999.html>

Obr.3: IBRAHIM, Mohamed. *Clker.com* [online]. [cit. 11.1.2013]. Dostupný na WWW:
<http://www.clker.com/clipart-23631.html>

Datum: 11. 1. 2013

Autor: Mgr. Vendula Sýkorová