



**Základní škola a Mateřská škola Dobrá Voda u Českých Budějovic,
Na Vyhlídce 6, 373 16 Dobrá Voda u Českých Budějovic**



evropský
sociální
fond v ČR



EVROPSKÁ UNIE



MINISTERSTVO ŠKOLSTVÍ,
MLÁDEŽE A TĚLOVÝCHOVY



OP Vzdělávání
pro konkurenceschopnost

INVESTICE DO ROZVOJE VZDĚLÁVÁNÍ

EU PENÍZE ŠKOLÁM

**Zlepšení podmínek pro vzdělávání na základních školách Operačního programu
Vzdělávání pro konkurenceschopnost**

Číslo a název klíčové aktivity:	IV/2 Inovace a zkvalitnění výuky směřující k rozvoji matematické gramotnosti žáků základních škol
Číslo DUM:	VY_42_INOVACE_M.3.032
Jméno autora:	Vendula Sýkorová
Datum (období) vytvoření DUM:	12.1. – 13.1. 2013
Ročník:	3.
Vzdělávací oblast:	Matematika a její aplikace
Vzdělávací obor:	Matematika
Klíčová slova:	Slovní úlohy v oboru do tisíce.
Anotace:	Žák řeší slovní úlohy v oboru do 1 000, samostatně zpracovává pracovní list.
Druh učebního materiálu:	Pracovní list
Očekávaný výstup:	Žák řeší slovní úlohy, ve kterých aplikuje osvojené početní operace.

Jarní výstava – slovní úlohy do 1 000

Jméno: _____

1.

Pan Dvořáček je nadšený zahradník. S manželkou a dvěma vnoučaty a bratrem se vydal na výstavu okrasných cibulovin do Německa. Na vstupné si pan Dvořáček připravil padesátieurovou bankovku. Bude mu stačit na zaplacení vstupného pro celou skupinu?

Zapisuj:

CENY VSTUPNÉHO	
Dospělí	€ 8
Děti a studenti	€ 4
Skupiny (od 10 osob)	€ 3

1 dospělý

☐ dospělí

1 dítě

☐ děti

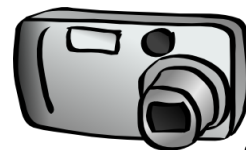
Výpočet: _____

Odpověď: _____


2.

Pan Dvořáček na výstavě pilně fotografoval. O fotografování si vedl podrobné záznamy. Květiny byly umístěny podle druhů ve čtyřech krytých pavilonech. V prvním pavilonu nafotil 280 snímků, v druhém 350, ve třetím 270. Paměťová karta má kapacitu 1 000 snímků. Kolik snímků mu zbývá na poslední pavilon?

Zápis:



Obr.1






Obr.2

Výpočet: _____

Odpověď: _____

3.

Doplň v sasankových květech čísla tak, aby součet čísel v každém okvětním lístku odpovídal číslu v jeho středu.



Obr.3

Citace a zdroje:

Obr. 1: OCAL. *Clker.com* [online]. [cit. 13.1.2013]. Dostupný na WWW:
<http://www.clker.com/clipart-2890.html>

Obr. 2: OCAL. *Clker.com* [online]. [cit. 13.1.2013]. Dostupný na WWW:
<http://www.clker.com/clipart-2890.html>

Obr. 3: OCAL. *Clker.com* [online]. [cit. 13.1.2013]. Dostupný na WWW:
<http://www.clker.com/clipart-14030.html>

Datum: 13. 1. 1. 2013

Autor: Mgr. Vendula Sýkorová